


Combien le lapin marron doit-il prendre encore de carottes pour en avoir autant que le lapin blanc ?




Combien de lapins se cachent derrière la haie ?






Le cochon adore les pommes !
Il a mangé 4 pommes rouges et 3 pommes
vertes.

Combien le cochon a-t-il mangé de pommes ?



**Emilie a trouvé un animal.
Il n'a pas de coquille.
Il n'a pas de plume.**

Quel animal Emilie a-t-elle trouvé ?




**Mon animal préféré est situé entre le
cygne et la chèvre.**

Quel est cet animal ?

Les réponses :

Comparaison de quantités D.9



Le lapin marron doit encore prendre 2 carottes.

Déduire une quantité à partir d'un élément donné.
Logique. C.1



Il y a 3 lapins.

Manipulation du nombre. Travail sur la structure additive. E.4



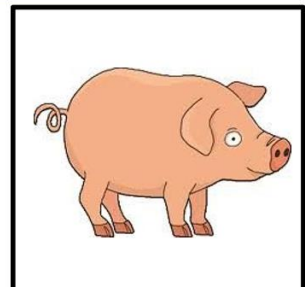
Il a mangé 7 pommes.

Travail sur la non propriété
Chercher la bonne réponse en procédant par élimination. A.8



Emilie a trouvé un chat.

Structuration de l'espace.
Chercher la position d'un élément. B.1



C'est le cochon.